




«Счет до 10»





Помоги Зайчихе сосчитать своих зайчат

- 1. У Зайчихи было 10 зайчат. Сосчитай их всех от 1 до 10 и обратно.*
- 2. От 9 до 3*

1

2

3

4

5

6

7

8

9

10



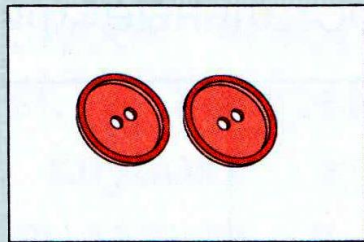



Какое число стоит ПОСЛЕ





*Разложи цифры на соответствующие ей
картинки*



2

6


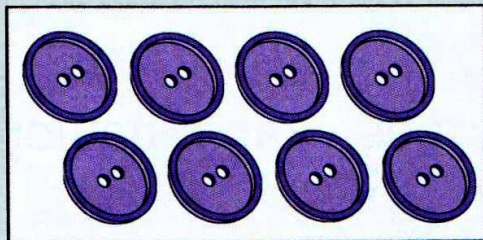

8

3


1

4

9



Сколько понадобилось зайцу кубиков
для башни?





5



Сколько зайцев в корзине?

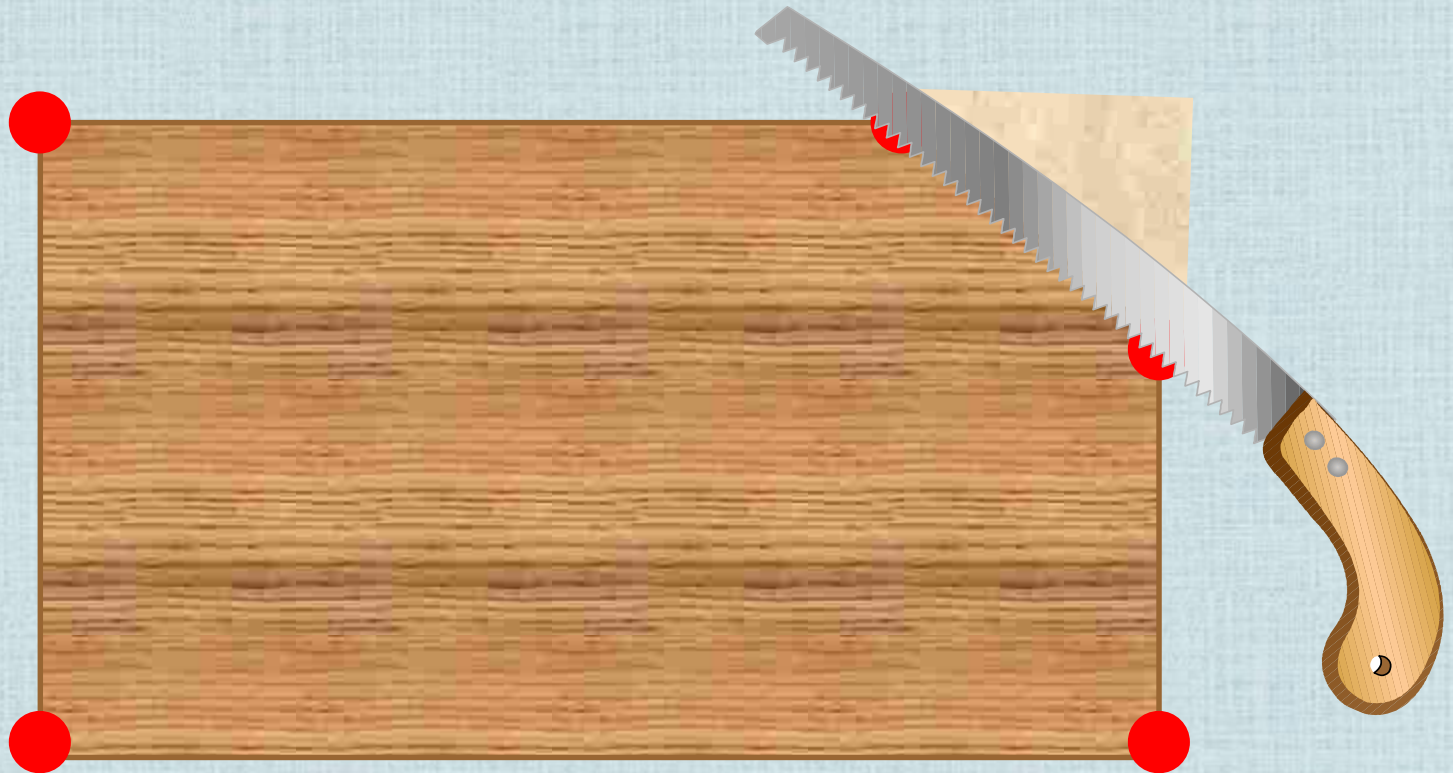




5

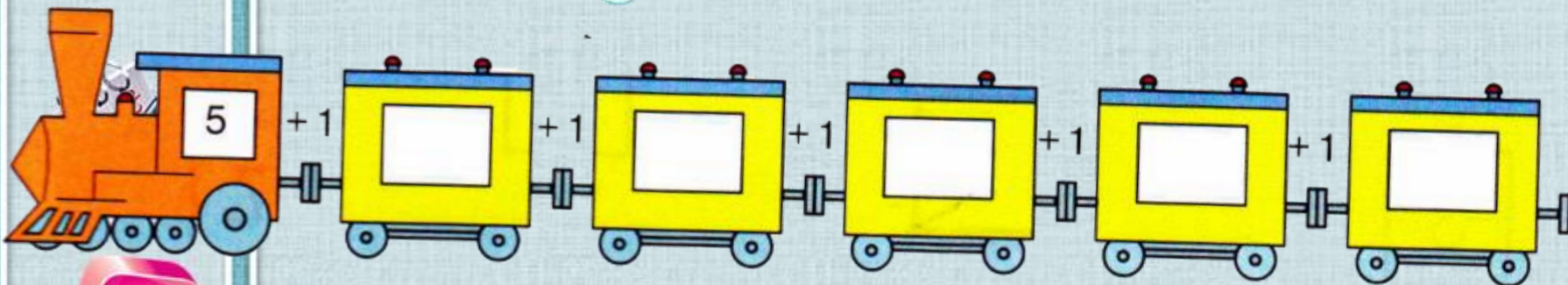


*У крышки стола 4 угла. Сколько
останется углов, если 1 угол
отпилить?*





Реши примеры, прибавляя 1 к следующему числу





- 1
- 2
- 3
- 4
- 5
- 6
- 7
- 8
- 9
- 10





Реши примеры, убавляя 1 от числа





Используемые ресурсы:

1. Годовой курс подготовки к школе: для детей 6-7 лет/ Липская Н.М. , И.М. Мальцева, С.В.Пятак и др. – М.: Эксмо, 2014.- 320 с.: ил. - (Ломоносовская школа).
2. Кубики с цифрами http://img-fotki.yandex.ru/get/6510/134091466.a/0_8eade_b145a1ba_S
3. Сова http://img-fotki.yandex.ru/get/6520/108950446.113/0_cd1fc_4b1c61ad_S
4. Циркуль http://img-fotki.yandex.ru/get/6423/108950446.113/0_cd1e7_4caa1851_S
5. Цифра 5 http://img-fotki.yandex.ru/get/9511/134091466.ce/0_cb245_e401dbc8_S
6. Блокнот с ручкой http://img-fotki.yandex.ru/get/19/108950446.6d/0_b4102_1793a431_S
7. Шаблон <http://pedsovet.su/load/412-1-0-43027>